



P A D I N O



[www.padino.org](http://www.padino.org)



021 6690 6790

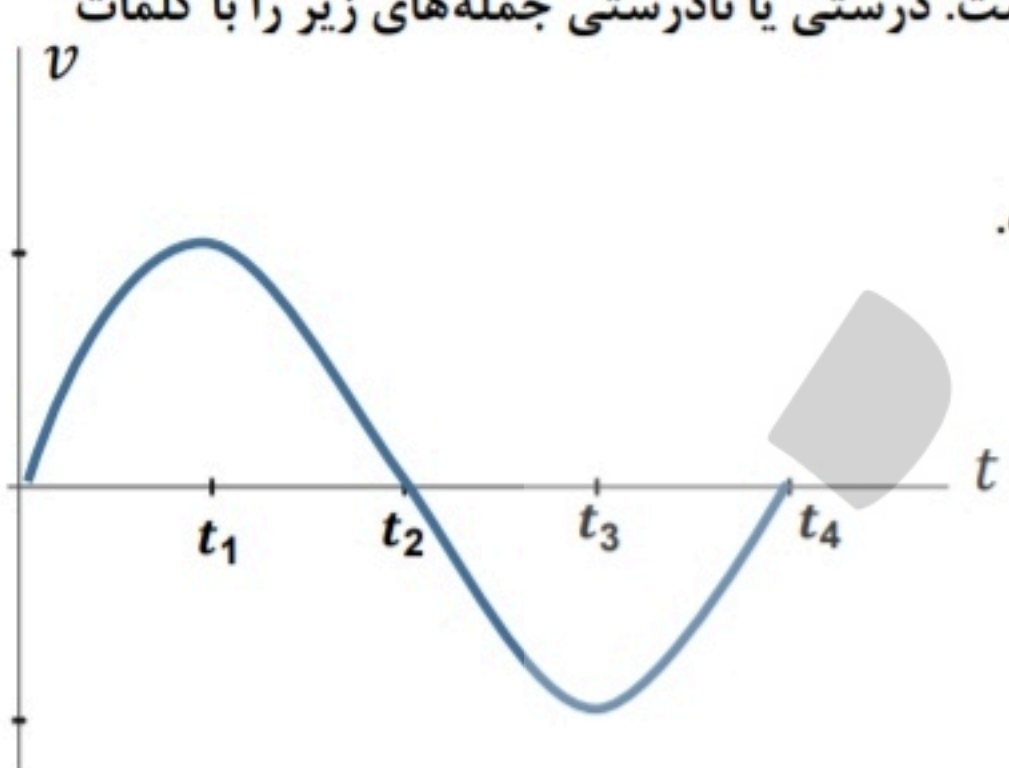
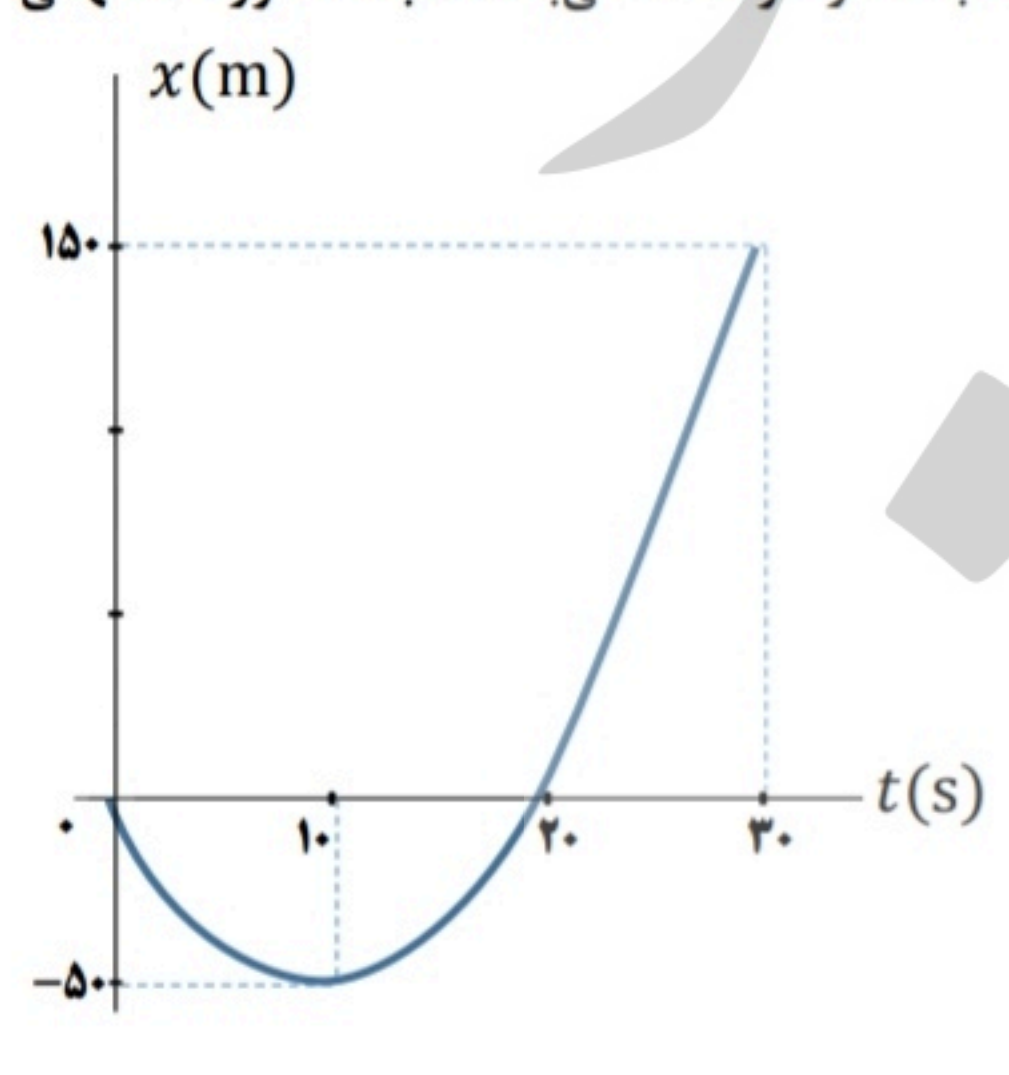


[t.me/padino\\_org](https://t.me/padino_org)

پادینو ، سبکی نو

سؤالات امتحان نهایی درس: <b>فیزیک ۳</b>	رشته علوم تجربی	نام و نام خانوادگی:	ساعت شروع: ۱۰ صبح
تاریخ امتحان: ۱۴۰۱/۱۰/۱۷	تعداد صفحات: ۴	پایه دوازدهم دوره دوم متوسطه	مدت امتحان: ۱۲۰ دقیقه
دانش آموزان روزانه، بزرگسال و داوطلبان آزاد سراسر کشور در نوبت <b>دی ماه سال ۱۴۰۱</b>		www.padino.org	

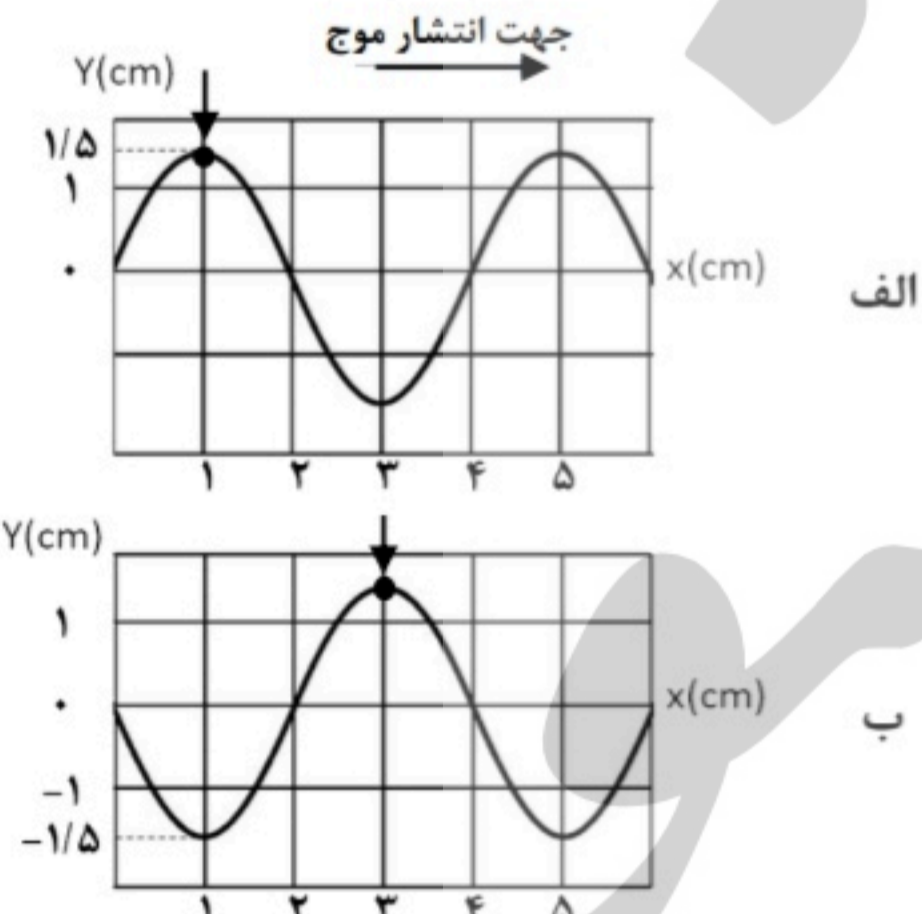
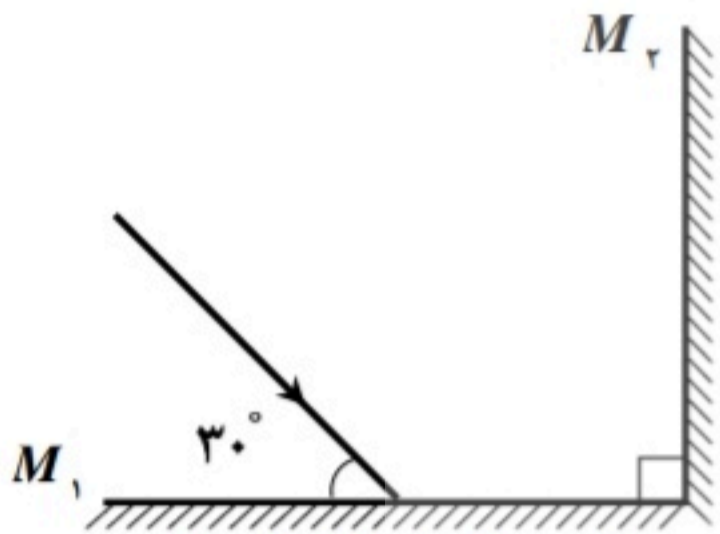
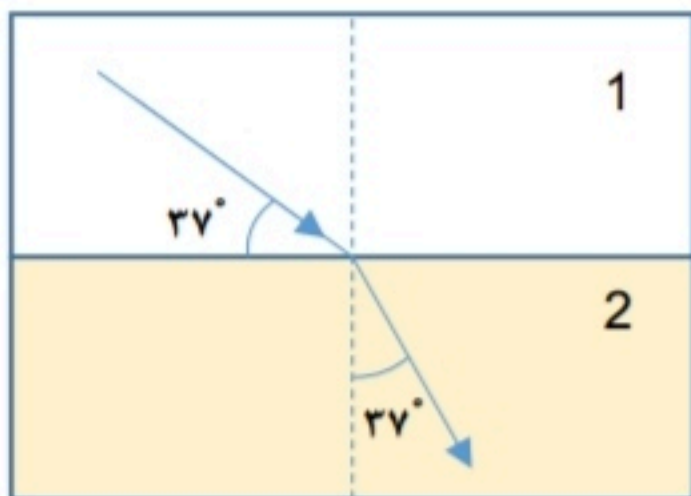
توجه: استفاده از ماشین حساب ساده (دارای چهار عمل اصلی و جذر و درصد) مجاز است.

بارم	سؤالات (پاسخ نامه دارد)	ردیف
۰/۷۵	<p>نمودار سرعت - زمان متحرکی در شکل زیر نشان داده شده است. درستی یا نادرستی جمله‌های زیر را با کلمات «درست» یا «نادرست» در پاسخ نامه مشخص کنید.</p> <p>الف) در بازه زمانی <math>t_2</math> تا <math>t_3</math> بردار شتاب در جهت محور <math>x</math> است.</p> <p>ب) در بازه زمانی <math>t_1</math> تا <math>t_2</math> حرکت کندشونده است.</p> <p>پ) در لحظه <math>t_2</math> شتاب صفر است.</p> 	۱
۱	<p>سرعت متحرکی در لحظه <math>t = 0 \text{ s}</math> به صورت <math>\vec{v}_0 = (10 \text{ m/s})\vec{i}</math> و شتاب ثابت آن <math>\vec{a} = (-1 \text{ m/s}^2)\vec{i}</math> است. در بازه زمانی صفر تا <math>20 \text{ s}</math>، تندی حرکت آن چگونه تغییر می‌کند.</p>	۲
۱/۵ ۰/۲۵	<p>نمودار مکان - زمان متحرکی که در امتداد محور <math>x</math> با شتاب ثابت در حرکت می‌باشد، به صورت سهمی شکل زیر است.</p> <p>الف) معادله مکان - زمان این متحرک را بنویسید.</p> <p>ب) مسیر حرکت متحرک در امتداد محور <math>x</math> را رسم کنید.</p> 	۳
۰/۱۵	<p>چتربازی در هوای آرام و در امتداد قائم چتر خود را باز می‌کند و در ارتفاع <math>600</math> متری سطح زمین به تندی حدی خود که <math>5 \text{ m/s}</math> است می‌رسد. چند ثانیه طول می‌کشد تا چتر باز به سطح زمین برسد؟</p>	۴

ادامه سؤالات در صفحه دوم

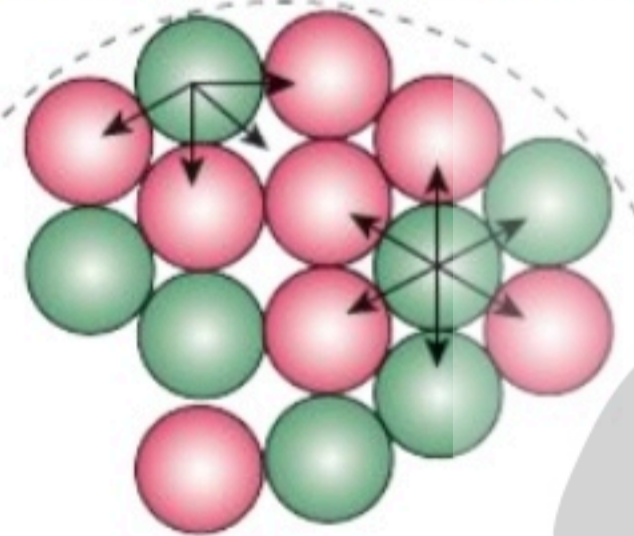
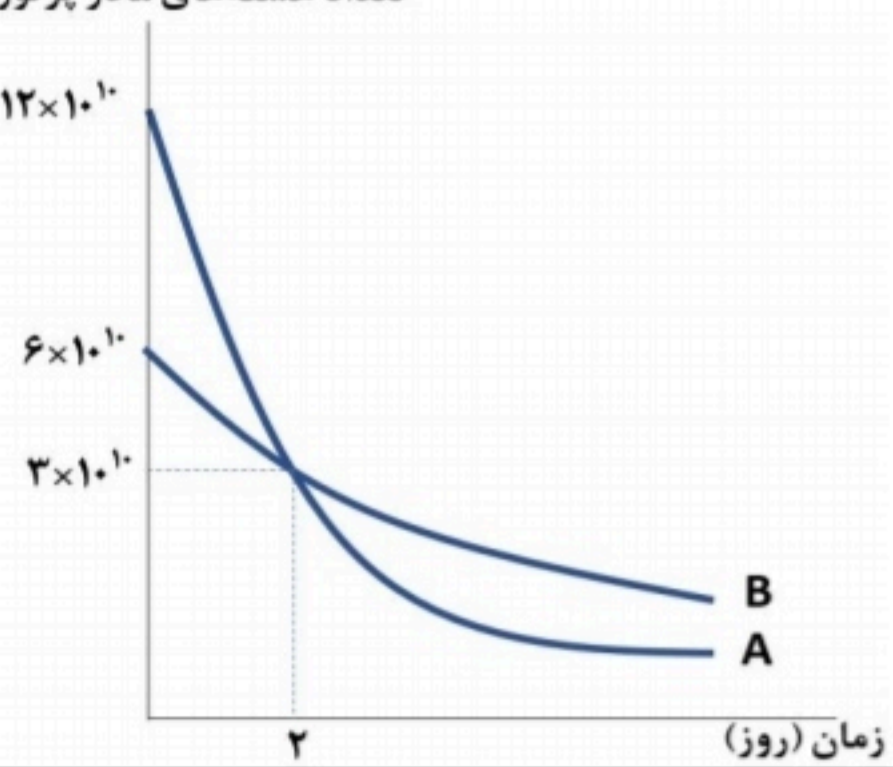
سؤالات امتحان نهایی درس: فیزیک ۳	رشته علوم تجربی	نام و نام خانوادگی:	ساعت شروع: ۱۰ صبح
تاریخ امتحان: ۱۴۰۱/۱۰/۱۷	تعداد صفحات: ۴	پایه دوازدهم دوره دوم متوسطه	مدت امتحان: ۱۲۰ دقیقه
دانش آموزان روزانه، بزرگسال و داوطلبان آزاد سراسر کشور در نوبت دی ماه سال ۱۴۰۱		www.padino.org	
ردیف	سؤالات (پاسخ نامه دارد)		
۵	<p>به پرسش‌های زیر پاسخ دهید:</p> <p>الف) در شکل مقابل، جسم بر روی سطح افقی ساکن است. نیروی اصطکاک جسم با سطح چند نیوتون است؟ (با ذکر دلیل)</p> <p>ب) شخصی به جرم <math>60 \text{ kg}</math> روی یک ترازوی فنری، داخل آسانسور ایستاده است. اگر ترازو عدد <math>500 \text{ N}</math> را نشان دهد، در این صورت کدام گزینه صحیح است؟</p> <p>(۱) حرکت آسانسور کندشونده رو به پایین است.</p> <p>(۲) حرکت آسانسور تندشونده رو به بالا است.</p> <p>(۳) حرکت آسانسور می‌تواند تندشونده رو به پایین یا کندشونده رو به بالا باشد.</p>		
۶	<p>اگر مطابق شکل مکعب چوبی را با تندی <math>20 \text{ m/s}</math> افقی پرتاب کنیم، پس از طی مسافت <math>40 \text{ m}</math> متوقف می‌شود. ضریب اصطکاک جنبشی سطح با جسم چقدر است؟</p> <p><math>(g = 10 \text{ m/s}^2)</math></p> 		
۷	<p>مطابق شکل فنر سبکی از سقف آویزان است. اگر فنر را بکشیم تا طول آن <math>12 \text{ cm}</math> شود، نیروی کشسانی فنر <math>2 \text{ N}</math> است و اگر فنر را فشرده کنیم تا طول آن <math>7 \text{ cm}</math> شود نیروی کشسانی فنر <math>3 \text{ N}</math> می‌شود. طول عادی فنر چند سانتی‌متر است؟</p> 		
۸	<p>اگر به اندازه شعاع کره زمین از سطح زمین دور شویم، شتاب گرانشی چند متر بر مربع ثانیه می‌شود؟ (شتاب گرانشی در سطح زمین را <math>10 \text{ m/s}^2</math> فرض کنید).</p>		
۹	<p>الف) دوره تناوب سامانه جرم - فنر با جذر ..... به طور مستقیم متناسب است.</p> <p>ب) اگر ناظر به طرف چشمه صوت حرکت کند، در مقایسه با ناظر ساکن، بسامد صوتی که می‌شنود ..... می‌یابد.</p> <p>پ) موج صوتی در ..... منتشر نمی‌شود.</p> <p>ت) ارتفاع صوت ..... است که گوش انسان درک می‌کند.</p>		
۱۰	<p>با طراحی آزمایشی، چگونگی اندازه‌گیری شتاب گرانشی زمین را به کمک یک آونگ ساده شرح دهید.</p>		
۱۱	<p>به پرسش‌های زیر پاسخ دهید.</p> <p>الف) چرا رنگ‌های نور سفید پس از عبور از منشور از هم جدا می‌شوند؟</p> <p>ب) یک کاربرد از مکان‌یابی پژواکی را بنویسید.</p>		
ادامه سؤالات در صفحه سوم			

سؤالات امتحان نهایی درس: <b>فیزیک ۳</b>	رشته علوم تجربی	نام و نام خانوادگی:	ساعت شروع: ۱۰ صبح
تاریخ امتحان: ۱۴۰۱/۱۰/۱۷	تعداد صفحات: ۴	پایه دوازدهم دوره دوم متوسطه	مدت امتحان: ۱۲۰ دقیقه
دانش آموزان روزانه، بزرگسال و داوطلبان آزاد سراسر کشور در نوبت <b>دی ماه سال ۱۴۰۱</b>		www.padino.org	

بارم	سؤالات (پاسخ نامه دارد)	ردیف
۰/۷۵ ۰/۷۵	<p>معادله مکان - زمان یک نوسانگر هماهنگ ساده در SI به صورت <math>x = ۰/۲ \cos ۲۰\pi t</math> است.</p> <p>الف) در لحظه <math>t = \frac{1}{6}</math> s اندازه شتاب نوسانگر چند متر بر مربع ثانیه است؟</p> <p>ب) اگر جرم نوسانگر ۲۰ g باشد، انرژی مکانیکی آن چند ژول است؟ <math>(\pi^2 = ۱۰ \text{ و } \cos \frac{\pi}{3} = \frac{1}{2})</math></p>	۱۲
۱/۲۵	<p>شکل الف مربوط به نقش یک موج مکانیکی در یک محیط در لحظه <math>t_1 = ۰</math> s است و در لحظه <math>t_2 = ۰/۱</math> s برای اولین بار شکل موج به صورت شکل ب می شود. بیشینه تندی هر ذره از محیط انتشار موج در SI چقدر است؟ <math>(\pi = ۳)</math></p>  <p>الف</p> <p>ب</p>	۱۳
۰/۱۵ ۰/۷۵	<p>الف) در شکل زیر مسیر پرتو نور را رسم کنید و زاویه بازتابش از آینه <math>M_2</math> را حساب کنید.</p>  <p>ب) در شکل زیر نور از هوا وارد محیط شفاف ۲ شده است. اگر تندی نور در هوا <math>3 \times 10^8</math> m/s باشد، تندی نور در محیط ۲ چقدر است؟ <math>(\sin ۳۷^\circ = ۰/۶ \text{ و } \sin ۵۳^\circ = ۰/۸)</math></p> 	۱۴

ادامه سؤالات در صفحه چهارم

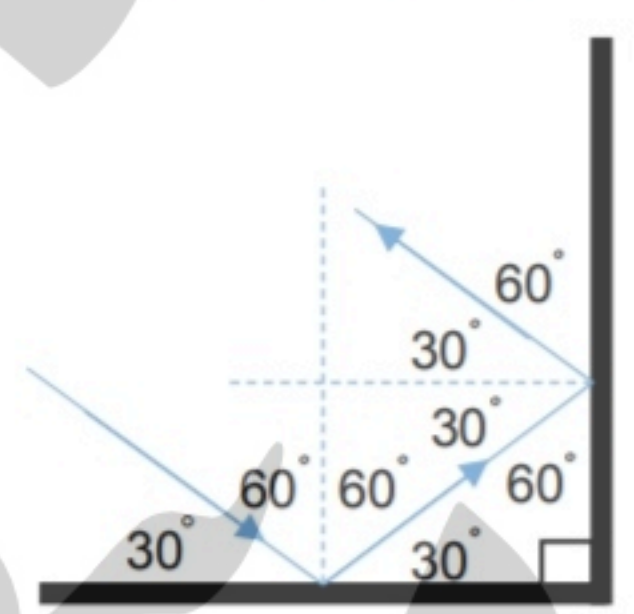
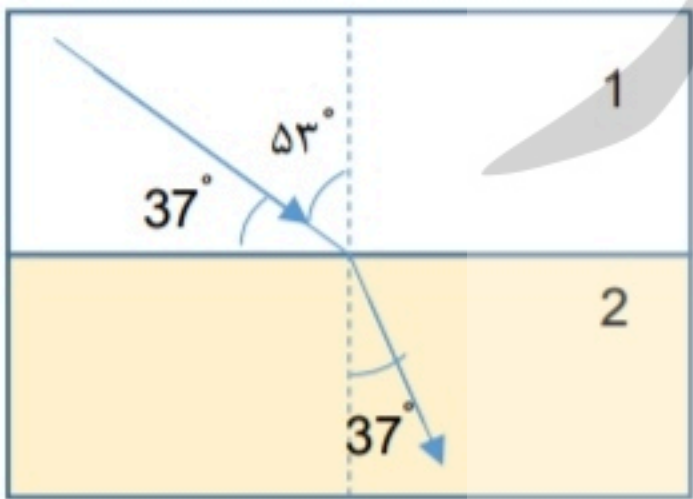
سؤالات امتحان نهایی درس: <b>فیزیک ۳</b>	رشته <b>علوم تجربی</b>	<b>نام و نام خانوادگی:</b>	ساعت شروع: <b>۱۰ صبح</b>
تاریخ امتحان: <b>۱۴۰۱/۱۰/۱۷</b>	تعداد صفحات: <b>۴</b>	پایه <b>دوازدهم دوره دوم متوسطه</b>	مدت امتحان: <b>۱۲۰ دقیقه</b>
دانش آموزان روزانه، بزرگسال و داوطلبان آزاد سراسر کشور در نوبت <b>دی ماه سال ۱۴۰۱</b>		www.padino.org	

بارم	سؤالات (پاسخ نامه دارد)	ردیف
۰/۵	به پرسش‌های زیر پاسخ دهید. الف) در آزمایش فوتوالکتریک برای یک فلز معین، تغییر هر یک از موارد زیر باعث چه تغییری در نتیجه آزمایش می‌شود. ۱) افزایش بسامد نور فرودی در بسامدهای بزرگ‌تر از بسامد آستانه. ۲) افزایش شدت نور فرودی در یک بسامد معین، بزرگ‌تر از بسامد آستانه.	۱۵
۰/۵ ۰/۲۵	ب) دو ویژگی از ویژگی‌های گسیل القایی را بنویسید. پ) تصویر مقابل نوکلئون‌های یک هسته را نشان می‌دهد. کدام یک از موارد زیر را می‌توانیم از مشاهده این تصویر نتیجه‌گیری کنیم؟ ۱) نیروی هسته‌ای قوی‌تر از نیروی گرانشی است. ۲) نیروی هسته‌ای کوتاه‌برد است. ت) معادله واپاشی‌های زیر را کامل کنید.	
۰/۵	 ۱) ${}_{82}^{211}\text{Pb} \rightarrow {}_{83}^{211}\text{Bi} + \dots$ ۲) ${}_{92}^{238}\text{U} \rightarrow {}_{90}^{234}\text{Th} + \dots$	
۰/۵	الکترونی در دومین حالت برانگیخته اتم هیدروژن قرار دارد. انرژی الکترون در این حالت چند الکترون ولت است؟ ( $E_R = 13/6 \text{ eV}$ )	۱۶
۱	کوتاه‌ترین طول موج در رشته بالمر ( $n' = 2$ ) هیدروژن اتمی را حساب کنید و بنویسید این طول موج در کدام گستره طول موج‌های الکترومغناطیسی قرار دارد. ( $R = 0.01 \text{ nm}^{-1}$ )	۱۷
۰/۷۵	از یک لامپ که نوری با طول موج $660 \text{ nm}$ گسیل می‌کند، در هر دقیقه $2 \times 10^{21}$ فوتون گسیل می‌شود. توان تابشی مفید لامپ چند وات است؟ ( $h = 6.6 \times 10^{-34} \text{ J}\cdot\text{s}$ و $c = 3 \times 10^8 \text{ m/s}$ )	۱۸
۱	نمودار تعداد هسته‌های مادر دو ماده پرتوزا بر حسب زمان مطابق شکل زیر است. با توجه به شکل نیمه‌عمر ماده A چند برابر نیمه‌عمر ماده B است؟ 	۱۹
۲۰	جمع بarm موفق و شاد و سربلند باشید	



پایه دوازدهم دوره دوم متوسطه		رشته علوم تجربی		راهنمای تصحیح امتحان نهایی درس فیزیک ۳	
مدت امتحان: ۱۲۰ دقیقه		ساعت شروع: ۱۰ صبح	تعداد صفحات: ۴	تاریخ امتحان: ۱۴۰۱ / ۱۰ / ۱۷	
www.padino.org		دانش آموزان روزانه، بزرگسال و داوطلبان آزاد سراسر کشور در نوبت دی ماه سال ۱۴۰۱			
۱/۵	$v^2 - v_0^2 = 2a\Delta x$ (۰/۲۵) $0^2 - 20^2 = 2a \times 40 \Rightarrow a = -5 \text{ m/s}^2$ (۰/۲۵)     (الف) ۶ $a = -\frac{f_k}{m}$ (۰/۲۵) $a = -\frac{\mu_k F_N}{m}$ (۰/۲۵) $a = -\frac{\mu_k mg}{m} = -\mu_k g$ (۰/۲۵) $a = -5 = -1 \cdot \mu_k \Rightarrow \mu_k = 0.5$ (۰/۲۵)	ص ۱۸ و ۴۰			
۱	$F_e = kx$ (۰/۲۵) $2 = k(12 - L_0)$ (۰/۲۵) $3 = k(L_0 - 7)$ (۰/۲۵)     ۷ $\frac{2}{3} = \frac{12 - L_0}{L_0 - 7} \Rightarrow L_0 = 10 \text{ cm}$ (۰/۲۵)	ص ۴۱			
۱	$g = \frac{GM_e}{r^2}$ (۰/۲۵) $\frac{g_2}{g_1} = \left(\frac{r_1}{r_2}\right)^2$ (۰/۲۵)     ۸ $\frac{g_2}{10} = \left(\frac{R_e}{2R_e}\right)^2$ (۰/۲۵) $g_2 = 2.5 \text{ m/s}^2$ (۰/۲۵)	ص ۴۹			
۱	(الف) جرم وزنه (ب) افزایش (پ) خلأ (ت) بسامدی (هر مورد صحیح ۰/۲۵) ۹ ص ۵۷ و ۷۶ و ۶۸ و ۷۴				
۱	ابتدا طول آونگ ساده را اندازه گیری می کنیم (۰/۲۵) و سپس آن را با زاویه کوچک به نوسان درمی آوریم و مدت زمان چند نوسان کامل را اندازه گیری می کنیم (۰/۲۵). به کمک رابطه $T = \frac{t}{n}$ دوره را محاسبه می کنیم (۰/۲۵) با قرار دادن دوره در رابطه $T = 2\pi \sqrt{\frac{L}{g}}$ شتاب گرانشی ( $g$ ) را محاسبه می کنیم (۰/۲۵). ۱۰ ص ۵۹				
۰/۷۵	(الف) زیرا ضریب شکست منشور برای طول موج های مختلف متفاوت است در نتیجه انحراف آنها هنگام عبور از منشور برابر نیست. (۰/۵) ۱۱ (ب) دستگاه سونار کشتی ها. (۰/۲۵) ص ۸۷ و ۷۹				
۱/۵	$x = 0.2 \cos 2\pi t \xrightarrow{t=\frac{1}{6}s} x = 0.2 \cos \frac{\pi}{3} = 0.1 \text{ m}$ (۰/۲۵)     (الف) ۱۲ $ a  = \omega^2 x$ (۰/۲۵) $ a  = 400\pi^2 \times 0.1 = 400 \text{ m/s}^2$ (۰/۲۵) $E = \frac{1}{2} m \omega^2 A^2$ (۰/۲۵) $E = \frac{1}{2} \times 0.2 \times 400\pi^2 \times 0.04$ (۰/۲۵) $E = 1/6 \text{ J}$ (۰/۲۵) (ب)	ص ۸۹			

پرورش استعداد درخشان (پاد) (۲)

پایه دوازدهم دوره دوم متوسطه		رشته علوم تجربی		راهنمای تصحیح امتحان نهایی درس فیزیک ۳
مدت امتحان: ۱۲۰ دقیقه		ساعت شروع: ۱۰ صبح	تعداد صفحات: ۴	تاریخ امتحان: ۱۴۰۱/۱۰/۱۷
www.padino.org		دانش آموزان روزانه، بزرگسال و داوطلبان آزاد سراسر کشور در نوبت دی ماه سال ۱۴۰۱		
۱/۲۵	<p>با توجه به شکل، میزان پیش روی موج در بازه زمانی <math>t_1</math> تا <math>t_2</math>، <math>\frac{\lambda}{2}</math> است.</p> $\frac{T}{2} = t_2 - t_1 = 0.1 \text{ s} \Rightarrow T = 0.2 \text{ s} \quad (0.25)$ $\omega = \frac{2\pi}{T} \quad (0.25) \quad \omega = 10\pi \text{ rad/s} \quad (0.25)$ $v_{max} = A\omega \quad (0.25) \quad v_{max} = 1/5 \times 10^{-2} \times 10 \times 3 = 0.45 \text{ m/s} \quad (0.25)$ <p>ص ۶۵</p>	۱۳		
۱/۲۵	<p>(الف) رسم صحیح شکل ۰/۲۵ نمره و تعیین زاویه بازتابش از آینه <math>M_2</math>، ۰/۲۵ نمره.</p>  <p>(ب)</p>  $\frac{\sin \theta_2}{\sin \theta_1} = \frac{v_2}{v_1} \quad (0.25) \quad \frac{\sin 37^\circ}{\sin 53^\circ} = \frac{v_2}{3 \times 10^8} \quad (0.25) \quad v_2 = 2/25 \times 10^8 \text{ m/s} \quad (0.25)$ <p>ص ۹۳ و ۸۵</p>	۱۴		
۱/۲۵	<p>(الف) ۱- افزایش انرژی جنبشی فوتوالکترون ها (۰/۲۵)          ۲- افزایش تعداد فوتوالکترون ها (۰/۲۵)          (ب) ۱- یک فوتون وارد می شود و دو فوتون خارج می شود. (۰/۲۵) ۲- فوتون گسیلی با فوتون فرودی هم جهت است. (۰/۲۵)          (پ) ۲ (۰/۲۵)</p> <p>(ت) ۱) <math>{}_{82}^{211}\text{Pb} \rightarrow {}_{83}^{211}\text{Bi} + {}_{-1}^0e^-</math> (۱)          ۲) <math>{}_{92}^{238}\text{U} \rightarrow {}_{90}^{234}\text{Th} + {}_2^4\text{He}</math> (هر مورد ۰/۲۵)</p> <p>ص ۱۲۲ و ۱۱۰ و ۱۱۳ و ۱۱۶</p>	۱۵		
۰/۵	$E_n = -\frac{E_R}{n^2} \quad (0.25) \quad E_3 = -\frac{13/6}{3^2} \approx -1/5 \text{ eV} \quad (0.25)$ <p>ص ۱۰۶</p>	۱۶		

(۳)

پرورش استعداد درخشان (پاد)

پایه دوازدهم دوره دوم متوسطه		رشته علوم تجربی		راهنمای تصحیح امتحان نهایی درس فیزیک ۳	
مدت امتحان: ۱۲۰ دقیقه		ساعت شروع: ۱۰ صبح		تعداد صفحات: ۴	
www.padino.org		دانش آموزان روزانه، بزرگسال و داوطلبان آزاد سراسر کشور در نوبت دی ماه سال ۱۴۰۱			
۱	$\frac{1}{\lambda} = R \left( \frac{1}{n'^2} - \frac{1}{n^2} \right)$ (۰/۲۵)	$\frac{1}{\lambda} = 0.01 \left( \frac{1}{4} - \frac{1}{\infty} \right)$ (۰/۲۵)	$\lambda = 400 \text{ nm}$ (۰/۲۵)	این طول موج در ناحیه فرابنفش قرار دارد. (۰/۲۵)	
۰/۷۵	$E = \frac{nhc}{\lambda}$ (۰/۲۵)	$P = \frac{nhc}{\lambda t}$			
	$P = \frac{2 \times 10^{21} \times 6.6 \times 10^{-34} \times 3 \times 10^8}{660 \times 10^{-9} \times 60}$ (۰/۲۵)	$P = 10 \text{ W}$ (۰/۲۵)			
۱	$N = \frac{N_0}{r^n}$ (۰/۲۵)	$3 \times 10^{10} = \frac{6 \times 10^{10}}{r^n} \Rightarrow \frac{t}{T_B} = n_B = 1$ (۰/۲۵)			
	$3 \times 10^{10} = \frac{12 \times 10^{10}}{r^n} \Rightarrow \frac{t}{T_A} = n_A = 2$ (۰/۲۵)				
	$\frac{T_A}{T_B} = \frac{1}{2}$ (۰/۲۵)				
۲۰	جمع نمرات	مصححین گرامی، برای پاسخهای صحیح دیگر نیز نمره لازم در نظر گرفته شود.			

پرورش استعداد درخشان (پاد)



P A D I N O



<http://www.Padino.org>



021 6690 6790



[t.me/padino\\_org](https://t.me/padino_org)

**آینده شما ممکن است ربطی به گذشته تان نداشته باشد  
کافیست اراده کنید**